

Dictado mudo




















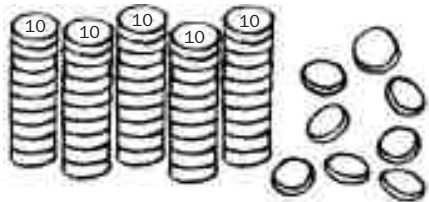
5





Nombre _____ Fecha _____


1. Completa.



►

D	U
5	8

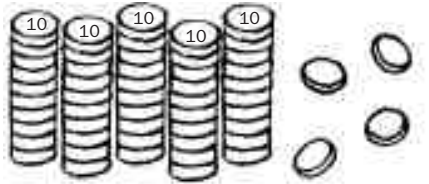
 ► $50 + 8 = 58$



►

D	U

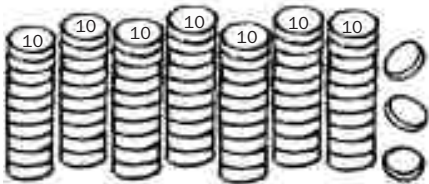
 ► $\square + \square = \square$



►

D	U

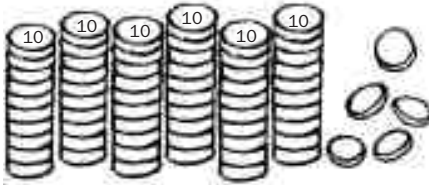
 ► $\square + \square = \square$



►

D	U

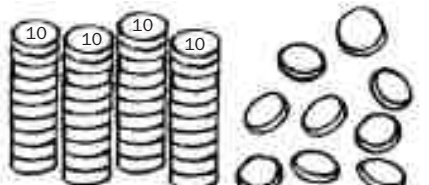
 ► $\square + \square = \square$



►

D	U

 ► $\square + \square = \square$



►

D	U

 ► $\square + \square = \square$

- Ordena las sílabas para formar palabras:

rró zo

mo zu

co zue



pa za to

ta za

za be ca



ci co ro ne

pi ce llo



Nombre _____ Fecha _____

1. Lee, completa el dibujo y resuelve.

Lola pescó 6 peces.

Gema pescó 3 peces más que Lola.

¿Cuántos peces pescó Gema?

Peces de Lola ▶



Peces de Gema ▶



$$\square + \square = \square$$

Gema pescó \square peces.

José plantó 7 plantas.

Rocío plantó 4 plantas más que José.

¿Cuántas plantas plantó Rocío?

Plantas de José ▶



Plantas de Rocío ▶



$$\square + \square = \square$$

Rocío plantó \square plantas.

Javier tiene 8 libros.

Sara tiene 2 libros menos que Javier.

¿Cuántos libros tiene Sara?

Libros de Javier ▶



Libros de Sara ▶



$$\square - \square = \square$$

Sara tiene \square libros.

SOPA DE LETRAS



X	Z	O	R	R	O	W	A	N	T	E
B	T	E	C	C	A	B	E	Z	A	P
Q	O	L	L	A	N	I	O	O	P	A
Q	M	A	N	Z	A	N	A	H	E	L
Z	A	Z	S	X	D	C	A	Ñ	A	T
A	R	M	E	C	O	C	I	N	A	S
A	N	B	D	R	K	O	A	C	H	O
N	O	C	U	Y	I	L	A	Z	O	X